



ESTADO DE SANTA CATARINA
MUNICÍPIO DE SANTA TEREZINHA DO PROGRESSO
EMPREGO PÚBLICO / CONCURSO PÚBLICO
PROVA OBJETIVA



CARGO: INSTRUTOR SOCIAL

CANDIDATO (A): _____

FICA TERMINANTEMENTE PROIBIDO AOS CANDIDATOS:

- ✓ Comunicar-se com outros candidatos.
- ✓ Fazer qualquer tipo de consulta ou uso de equipamentos eletrônicos.
- ✓ Sair com material referente à prova.
- ✓ Ausentar-se do local da prova sem o acompanhamento de um fiscal.

ORIENTAÇÕES IMPORTANTES

- 01 - Este caderno contém questões do tipo múltipla escolha.
- 02 - Verifique se o caderno contém falhas: folhas em branco, má impressão, páginas trocadas, numeração errada, etc. Encontrando falhas, levante a mão. O Fiscal o atenderá e trocará o seu caderno.
- 03 - Cada questão do tipo MÚLTIPLA ESCOLHA tem 4 (quatro) alternativas (A - B - C - D). Apenas 01 (uma) resposta é correta. Não marque mais de uma resposta para a mesma questão, nem deixe nenhuma delas sem resposta. Se isso acontecer, a questão será anulada.
- 04 - Para marcar as respostas definitivas no seu CARTÃO RESPOSTA do tipo MÚLTIPLA ESCOLHA, use caneta esferográfica com tinta preta. NÃO utilize caneta com tinta vermelha ou lápis.
- 05 - Ao receber o CARTÃO RESPOSTA preencha-o corretamente.
- 06 - Tenha cuidado na marcação da Folha de Respostas, pois ela não será substituída em hipótese alguma.
- 07 - Confira e assine a Folha de Respostas, antes de entregá-la ao Fiscal. NA FALTA DA ASSINATURA, A SUA PROVA SERÁ ANULADA.
- 08 - 40 minutos após o início das provas, você poderá retirar-se da sala SEM LEVAR ESTE CADERNO.
- 09 - Em nenhuma hipótese, o candidato poderá levar o Caderno de Provas e/ou o Cartão de Resposta.
- 10 - No encerramento das provas, há necessidade de pelo menos três candidatos presentes na sala. Isso faz parte das normas para transparência na fiscalização do Concurso.
11. A duração da prova será de Quatro Horas.

Anote aqui suas respostas.

1	2	3	4	5	6	7	8	9	10
11	12	13	14	15	16	17	18	19	20
21	22	23	24	25	26	27	28	29	30

01. Não são antônimos:

- a) Fino – Grosso.
- b) Honrar – Desonrar.
- c) Vestir – Despir.
- d) Aldeia – Povoado.

02. “Viajar é bom e instrutivo.”

Os monossílabos presentes na frase acima são:

- a) Tônico e átono, respectivamente.
- b) Átono e tônico, respectivamente.
- c) Ambos átonos.
- d) Ambos tônicos.

03. Assinale a alternativa que apresenta palavra ortograficamente incorreta:

- a) Proprietário.
- b) Admitir.
- c) Pertubar.
- d) Ritmado.

04. Leia com atenção:

I- Monossílabo átono é pronunciado fortemente;

II- Monossílabo tônico é pronunciado fracamente.

Sobre os itens acima:

- a) Apenas I está correto.
- b) Apenas II está correto.
- c) Ambos estão incorretos.
- d) Ambos estão corretos.

05. Leia com atenção:

I- A viagem foi agradável;

II- Espero que eles viagem pelo mundo.

Sobre os itens acima:

- a) Ambos estão incorretos.
- b) Ambos estão corretos.
- c) Apenas I está correto.
- d) Apenas II está correto.

06. Em qual das alternativas a frase está corretamente escrita?

- a) O cabeilereiro é ájil e sinjelo.
- b) O cabeleireiro é ágil e singelo.
- c) O cabeleirero é ágil e singelo.
- d) O cabeleirero é agel e singelo.

07. Qual das frases abaixo é interrogativa?

- a) Ela foi tarde.
- b) Ela foi tarde?
- c) Ela foi tarde!
- d) Ela foi tarde...

08. É uma palavra polissílaba:

- a) Vinha.
- b) Galinha.
- c) Indicador.
- d) Dedo.

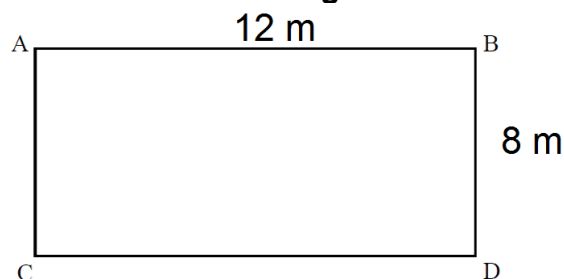
09. É uma palavra paroxítona:

- a) Direção.
- b) Imaginou.
- c) Dançar.
- d) Vamos.

10. Qual das palavras abaixo tem o mesmo número de consoantes e vogais?

- a) Balduíno.
- b) Beijo.
- c) Culpa.
- d) Avião.

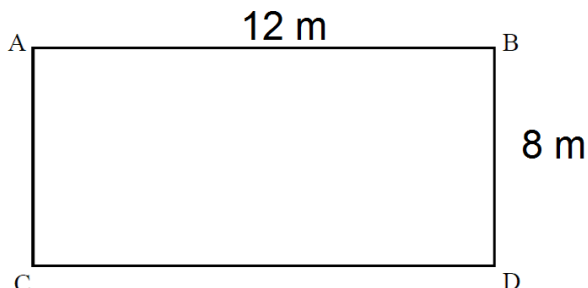
11. Analise o desenho de um terreno abaixo. Com base nas medidas apresentadas, é correto afirmar que a área deste terreno é igual a:



- a) 96 m²
- b) 84 m²

- c) 76 m^2
- d) 62 m^2

12. Ainda com base no terreno apresentando anteriormente, é correto afirmar que a soma de todos os seus lados é igual a:



- a) 60 m
- b) 50 m
- c) 40 m
- d) 30 m

13. Para o Natal, João comprou cinco caixas de bombom. Sabendo que cada caixa custa R\$ 12,50, é correto afirmar que ao todo João gastou:

- a) R\$ 67,50
- b) R\$ 66,99
- c) R\$ 66,00
- d) R\$ 62,50

14. Uma professora entregou aos seus alunos a figura geométrica planificada abaixo para que eles a montassem. Com base nisso, é correto afirmar que, após a montagem, a figura se transformará em um:

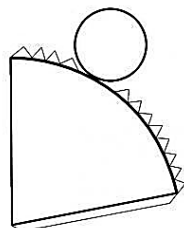


Figura Geométrica Planificada

- a) Cilindro
- b) Cone
- c) Cubo
- d) Prisma

15. Analisando a tabela abaixo, pode-se concluir que 8 dividido por 2 traz como

quociente o número 4, bem como o resto da divisão igual a zero.

Dividendo	Divisor	Quociente	Resto
8	2	4	0
12	6	?	?

Com base nisso, é correto afirmar que o quociente e o resto da divisão de $12/6$ são, respectivamente:

- a) 2 e 0
- b) 3 e 0
- c) 6 e 3
- d) 4 e 0

16. Os servidores públicos devem agir de forma ética no seu local de trabalho, por exemplo:

- a) Favorecendo algumas pessoas.
- b) Sendo corrupto.
- c) Desviando recursos.
- d) Agindo de acordo com as leis.

17. Não é um princípio ético:

- a) Justiça.
- b) Responsabilidade.
- c) Falta de transparência.
- d) Confiança.

18. A democracia pode ser exercida através de:

- a) Orçamento participativo.
- b) Gestão Hospital.
- c) Gestão Escolar.
- d) Gestão Empresarial.

19. Marque o conceito de direitos humanos:

- a) São aqueles que o governo garante, dados por lei a todos os cidadãos de um país.

- b) São os direitos básicos de todos os seres humanos, incluem o direito à vida e à liberdade, à liberdade de opinião e de expressão, o direito ao trabalho e à educação, entre e muitos outros, sem discriminação.
- c) Se referem a um conjunto de regras constitucionalmente fixadas, referentes à participação popular no processo político.
- d) É um conjunto de prerrogativas conferidas por lei à pessoa física ou jurídica criadora da obra intelectual, para que ela possa gozar dos benefícios morais e patrimoniais resultantes da exploração de suas criações.

20. No Brasil, vivemos em um sistema de:

- a) Democracia representativa.
- b) Ditadura.
- c) Parlamentarismo.
- d) Autocracia.

21. Como é o nome do equipamento público que é a porta de entrada da Assistência Social:

- a) Centro de Referência Especializado de Assistência Social – CREAS.
- b) Residência Inclusiva.
- c) Centro de Referência de Assistência Social – CRAS.
- d) Casa Lar.

22. De acordo com o Estatuto da Criança e do Adolescente (ECA), considera-se criança a pessoa de:

- a) Até doze anos de idade incompletos.
- b) Até doze anos de idade completos.
- c) Até treze anos de idade incompletos.
- d) Até treze anos de idade completos.

23. Como é o nome do órgão permanente e autônomo, não jurisdicional, encarregado pela sociedade de zelar pelo cumprimento

dos direitos da criança e do adolescente:

- a) Conselho dos Direitos da Criança e do Adolescente.
- b) Conselho de Assistência Social.
- c) Conselho Tutelar.
- d) Conselho dos Direitos Humanos.

24. O Plano Nacional de Prevenção e Erradicação do Trabalho Infantil:

- a) Não se preocupa com o trabalho infantil.
- b) Busca diminuir o trabalho infantil, mas não acabar.
- c) Visa ampliar o trabalho infantil.
- d) Busca eliminar as piores formas de trabalho infantil até 2015 e erradicar a totalidade do trabalho infantil até 2020.

25. De acordo com a Lei Maria da Penha, são formas de violência doméstica e familiar cometidas contra a mulher, exceto:

- a) Moral.
- b) Psicológica.
- c) Física.
- d) Virtual.

26. Marque a opção de serviço executado no CRAS:

- a) Serviço Especializado em Abordagem Social.
- b) Serviço de Proteção e Atendimento Integral à Família.
- c) Serviço Especializado para Pessoas em Situação de Rua.
- d) Serviço de Acolhimento em República.

27. Na Assistência Social, a proteção social especial é classificada em:

- a) Inicial e básica.
- b) Plena e Intersetorial.
- c) Média e Alta complexidade.
- d) Descentralizada e em rede.

28. Não é objetivo do Serviço de Convivência e Fortalecimento de Vínculos:

- a) Complementar o trabalho social com família, aumentando a violência e fortalecendo a convivência familiar e comunitária.
- b) Prevenir a institucionalização e a segregação de crianças, adolescentes, jovens e idosos, em especial, das pessoas com deficiência, assegurando o direito à convivência familiar e comunitária.
- c) Promover acessos a benefícios e serviços socioassistenciais, fortalecendo a rede de proteção social de assistência social nos territórios.
- d) Possibilitar acessos a experiências e manifestações artísticas, culturais, esportivas e de lazer, com

vistas ao desenvolvimento de novas sociabilidades.

29. Não é uma situação prioritária para atendimento no Serviço de Convivência e Fortalecimento de Vínculos:

- a) Trabalho infantil.
- b) Isolamento.
- c) Fora da escola.
- d) Sem pai.

30. É instituído o Estatuto do Idoso, destinado a regular os direitos assegurados às pessoas com que idade:

- a) 60 anos.
- b) 65 anos.
- c) 70 anos.
- d) 75 anos.