



ESTADO DE SANTA CATARINA
MUNICÍPIO DE SANTA TEREZINHA DO PROGRESSO
EMPREGO PÚBLICO / CONCURSO PÚBLICO
PROVA OBJETIVA



CARGO: AGENTE COMUNITÁRIO DE SAÚDE

CANDIDATO (A): _____

FICA TERMINANTEMENTE PROIBIDO AOS CANDIDATOS:

- ✓ Comunicar-se com outros candidatos.
- ✓ Fazer qualquer tipo de consulta ou uso de equipamentos eletrônicos.
- ✓ Sair com material referente à prova.
- ✓ Ausentar-se do local da prova sem o acompanhamento de um fiscal.

ORIENTAÇÕES IMPORTANTES

- 01 - Este caderno contém questões do tipo múltipla escolha.
- 02 - Verifique se o caderno contém falhas: folhas em branco, má impressão, páginas trocadas, numeração errada, etc. Encontrando falhas, levante a mão. O Fiscal o atenderá e trocará o seu caderno.
- 03 - Cada questão do tipo MÚLTIPLA ESCOLHA tem 4 (quatro) alternativas (A - B - C – D). Apenas 01 (uma) resposta é correta. Não marque mais de uma resposta para a mesma questão, nem deixe nenhuma delas sem resposta. Se isso acontecer, a questão será anulada.
- 04 - Para marcar as respostas definitivas no seu CARTÃO RESPOSTA do tipo MÚLTIPLA ESCOLHA, use caneta esferográfica com tinta preta. NÃO utilize caneta com tinta vermelha ou lápis.
- 05 - Ao receber o CARTÃO RESPOSTA preencha-o corretamente.
- 06 - Tenha cuidado na marcação da Folha de Respostas, pois ela não será substituída em hipótese alguma.
- 07 - Confira e assine a Folha de Respostas, antes de entregá-la ao Fiscal. NA FALTA DA ASSINATURA, A SUA PROVA SERÁ ANULADA.
- 08 – 40 minutos após o início das provas, você poderá retirar-se da sala SEM LEVAR ESTE CADERNO.
- 09 - Em nenhuma hipótese, o candidato poderá levar o Caderno de Provas e/ou o Cartão de Resposta.
- 10 - No encerramento das provas, há necessidade de pelo menos três candidatos presentes na sala. Isso faz parte das normas para transparência na fiscalização do Concurso.
11. A duração da prova será de Quatro Horas.

Anote aqui suas respostas.

1	2	3	4	5	6	7	8	9	10
11	12	13	14	15	16	17	18	19	20
21	22	23	24	25	26	27	28	29	30

01. Não são antônimos:

- a) Fino – Grosso.
- b) Honrar – Desonrar.
- c) Vestir – Despir.
- d) Aldeia – Povoado.

02. “Viajar é bom e instrutivo.”

Os monossílabos presentes na frase acima são:

- a) Tônico e átono, respectivamente.
- b) Átono e tônico, respectivamente.
- c) Ambos átonos.
- d) Ambos tônicos.

03. Assinale a alternativa que apresenta palavra ortograficamente incorreta:

- a) Proprietário.
- b) Admitir.
- c) Pertubar.
- d) Ritmado.

04. Leia com atenção:

I- Monossílabo átono é pronunciado fortemente;

II- Monossílabo tônico é pronunciado fracamente.

Sobre os itens acima:

- a) Apenas I está correto.
- b) Apenas II está correto.
- c) Ambos estão incorretos.
- d) Ambos estão corretos.

05. Leia com atenção:

I- A viagem foi agradável;

II- Espero que eles viagem pelo mundo.

Sobre os itens acima:

- a) Ambos estão incorretos.
- b) Ambos estão corretos.
- c) Apenas I está correto.
- d) Apenas II está correto.

06. Em qual das alternativas a frase está corretamente escrita?

- a) O cabeilereiro é ágil e sinjelo.
- b) O cabeleireiro é ágil e singelo.
- c) O cabeleirero é ágil e singelo.
- d) O cabeleirero é agel e singelo.

07. Qual das frases abaixo é interrogativa?

- a) Ela foi tarde.
- b) Ela foi tarde?
- c) Ela foi tarde!
- d) Ela foi tarde...

08. É uma palavra polissílaba:

- a) Vinha.
- b) Galinha.
- c) Indicador.
- d) Dedo.

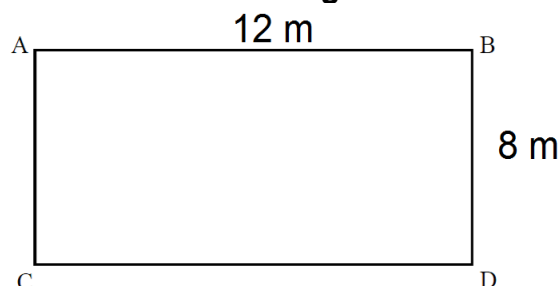
09. É uma palavra paroxítona:

- a) Direção.
- b) Imaginou.
- c) Dançar.
- d) Vamos.

10. Qual das palavras abaixo tem o mesmo número de consoantes e vogais?

- a) Balduíno.
- b) Beijo.
- c) Culpa.
- d) Avião.

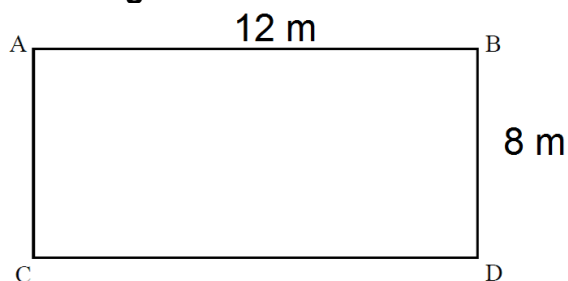
11. Analise o desenho de um terreno abaixo. Com base nas medidas apresentadas, é correto afirmar que a área deste terreno é igual a:



- a) 96 m²

- b) 84 m²
- c) 76 m²
- d) 62 m²

12. Ainda com base no terreno apresentando anteriormente, é correto afirmar que a soma de todos os seus lados é igual a:



- a) 60 m
- b) 50 m
- c) 40 m
- d) 30 m

13. Para o Natal, João comprou cinco caixas de bombom. Sabendo que cada caixa custa R\$ 12,50, é correto afirmar que ao todo João gastou:

- a) R\$ 67,50
- b) R\$ 66,99
- c) R\$ 66,00
- d) R\$ 62,50

14. Uma professora entregou aos seus alunos a figura geométrica planificada abaixo para que eles a montassem. Com base nisso, é correto afirmar que, após a montagem, a figura se transformará em um:

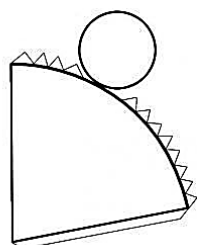


Figura Geométrica Planificada

- a) Cilindro
- b) Cone
- c) Cubo
- d) Prisma

15. Analisando a tabela abaixo, pode-se concluir que 8 dividido por 2 traz como quociente o número 4, bem como o resto da divisão igual a zero.

Dividendo	Divisor	Quociente	Resto
8	2	4	0
12	6	?	?

Com base nisso, é correto afirmar que o quociente e o resto da divisão de 12/6 são, respectivamente:

- a) 2 e 0
- b) 3 e 0
- c) 6 e 3
- d) 4 e 0

16. Com relação às regras para evitar a contaminação dos alimentos é incorreto afirmar:

- a) Após comer, lave bem as mãos com água e sabão ou use álcool em gel para desinfetar.
- b) As frutas, verduras e embalagens que forem guardadas na geladeira, devem ser lavadas antes de armazenadas e também de serem consumidas.
- c) Busque certificar-se de que o alimento que comprou está dentro do prazo de validade e as embalagens não devem estar amassadas ou rompidas.
- d) Não use utensílios de madeira no preparo dos alimentos: o material é propício a proliferação de micro-organismos.

17. As manifestações mais comuns relacionadas com a inadequada manipulação dos alimentos, sem higiene, são:

- a) Vômitos, diarreias, febres, além de infecções.
- b) Diarreias, constipações, manchas pela pele e sangramentos.
- c) Fraqueza, câibras, cansaço, sonolência.
- d) Atraso no crescimento, coloração amarelada da pele, impotência.

18. Uma das formas de se evitar as meningites é através da vacinação. A vacina Meningo C (conjugada), deve ser administrada a criança aos:

- a) 2, 4 e 6 meses.
- b) 3 e 5 meses.
- c) 4, 8 e 12 meses.
- d) 0, 3 e 5 meses.

19. *“Às vezes você ri com as mães, às vezes você chora. Mas este é o trabalho do agente de saúde: tem que rir com os que riem e chorar com os que choram. Mas também o agente de saúde tem que ter uma ética profissional. Quando eu converso com uma dona de casa e ela tem aquela confiança e conta a vida dela pra mim, não posso ir contar o que ouvi pra outra vizinha; tenho que ter ética profissional.”*

Valderina Xavier de Souza,
Agente Comunitária de Saúde em
Padre Bernardo, Entorno do DF.

O relato da ACS trazido no trecho acima remete ao princípio ético profissional denominado:

- a) Acolhimento em saúde.
- b) Humanização no atendimento.
- c) Aconselhamento.
- d) Sigilo profissional.

20. Analise o trecho e assinale a alternativa que completa corretamente a lacuna:

É através da _____, ou seja, da relação propositiva entre os setores responsáveis pelas ações que se referem à qualidade de vida do homem, como saúde, educação, habitação, trabalho, cultura, entre outras. Ela acontece, quando esses setores

trabalham em conjunto, construindo parcerias, unindo esforços e somando recursos financeiros e humanos para alcançar um objetivo comum.

- a) Integralidade.
- b) Intersetorialidade.
- c) Longitudinalidade.
- d) Resolutividade.

21. Uma das metas das estratégias saúde da família é acompanhar a saúde das crianças e funcionários das instituições escolares. Essas ações são possíveis através do:

- a) Programa Saúde na Escola (PSE).
- b) Programa Escola Saudável (PES).
- c) Programa Escola na Saúde da Família (PESF).
- d) Programa Escola, Saúde e Atenção Básica (PESAB).

22. Responda verdadeiro (V) ou falso (F) com relação à saúde da população e assinale a alternativa que traz a sequência correta:

(___) *A saúde é um direito fundamental do homem, e a meta de todos os povos deve ser atingir um alto nível de saúde;*

(___) *A igualdade no estado de saúde dos povos é inaceitável e é motivo de preocupação para todos os países;*

(___) *A promoção da saúde dos povos é essencial para o desenvolvimento econômico e social e contribui para melhorar a qualidade de vida e para alcançar a paz mundial.*

- a) V-F-F.
- b) V-F-V.
- c) F-V-V.
- d) F-V-F.

23. Considere os itens a seguir com relação à atenção primária:

I- Os governos têm responsabilidade pela saúde dos povos. A atenção primária à saúde é a chave para atingir essa meta com justiça social;

II- *Atenção primária significa cuidados essenciais de saúde, baseados em técnicas apropriadas, cientificamente comprovadas e socialmente aceitas. Deve fazer parte do sistema de saúde. Deve estar ao alcance de todas as pessoas da comunidade e deve contar com a participação da população. Precisa ter um custo que a comunidade e o país possam suportar;*

III- *O compromisso com a atenção primária à saúde define a influência das condições econômicas e das características sociais, culturais e políticas de cada país sobre a saúde da sua população.*

Está correto o que se afirma em:

- a) I e II, apenas.
- b) I e III, apenas.
- c) II e III, apenas.
- d) I, II e III.

24. *Schistosoma mansoni* é o agente causador de qual das doenças a seguir:

- a) Cólera.
- b) Doença de Chagas.
- c) Esquistossomose.
- d) Dengue.

25. *O Aconselhamento é tido como um instrumento importante para a quebra da cadeia de transmissão das Doenças Sexualmente Transmissíveis - DST. Auxilia o cliente a compreender a relação existente entre o seu comportamento e o problema de saúde que está apresentando, a reconhecer os recursos que tem para evitar novas infecções.*

Sobre o trecho acima:

- a) Apenas a primeira frase está correta.
- b) Apenas a segunda frase está correta.
- c) As duas frases estão corretas.
- d) As duas frases estão incorretas.

26. Os métodos contraceptivos naturais são indicados tanto às mulheres que desejam evitar a gravidez quanto àquelas que querem engravidar. Qual dos métodos listados a seguir não representa um método natural:

- a) Ogino Knaus.
- b) Coito interrompido.
- c) Temperatura basal corporal.
- d) Condom masculino.

27. Responda verdadeiro (V) ou falso (F) com relação à camisinha feminina e assinale a alternativa que traz a sequência correta:

() *Feita de poliuretano, a camisinha feminina tem forma de saco, de aproximadamente 25 cm de comprimento, com dois anéis flexíveis, um em cada extremidade;*

() *O anel maior fica na parte fechada do saco e é este que, sendo introduzido no canal vaginal, irá se encaixar no colo do útero;*

() *O anel menor fica aderido às bordas do lado aberto do saco e ficará do lado de fora, na vulva;*

() *A camisinha feminina se adapta e recobre internamente toda a vagina. Assim, impede o contato com o sêmen e conseqüentemente tem ação preventiva contra as DST.*

- a) V-V-F-F.
- b) V-F-F-V.
- c) F-V-V-F.
- d) F-F-V-V.

28. *Haemophilus ducrey* é o agente causador de qual das DST a seguir:

- a) Cancro mole.
- b) Sífilis.
- c) Gonorreia.
- d) Candidíase.

29. Todos os sintomáticos respiratórios observados pelos ACS devem ser orientados a procurar a Unidade Básica para realizar o:

- a) Exame de urina.
- b) Exame de pele.
- c) Exame de escarro.
- d) Exame de fezes.

30. As ações voltadas a Vigilância Sanitária abrangem:

I- O controle de bens de consumo que direta ou indiretamente se relacionem com a saúde, compreendidas todas as etapas e processos da produção ao consumo;

II- O controle da prestação de serviços que se relacionam direta ou indiretamente com saúde;

III- O controle dos aglomerados urbanos e novos padrões de vida acompanhados por hábitos diferentes da população.

Está correto o que se afirma em:

- a) I e II, apenas.
- b) I e III, apenas.
- c) II e III, apenas.
- d) I, II e III.