



ESTADO DE SANTA CATARINA
MUNICÍPIO DE SANTA TEREZINHA DO PROGRESSO
EMPREGO PÚBLICO / CONCURSO PÚBLICO
PROVA OBJETIVA



CARGO: AUXILIAR DE SERVIÇOS GERAIS FEMININO

CANDIDATO (A): _____

FICA TERMINANTEMENTE PROIBIDO AOS CANDIDATOS:

- ✓ Comunicar-se com outros candidatos.
- ✓ Fazer qualquer tipo de consulta ou uso de equipamentos eletrônicos.
- ✓ Sair com material referente à prova.
- ✓ Ausentar-se do local da prova sem o acompanhamento de um fiscal.

ORIENTAÇÕES IMPORTANTES

- 01 - Este caderno contém questões do tipo múltipla escolha.
- 02 - Verifique se o caderno contém falhas: folhas em branco, má impressão, páginas trocadas, numeração errada, etc. Encontrando falhas, levante a mão. O Fiscal o atenderá e trocará o seu caderno.
- 03 - Cada questão do tipo MÚLTIPLA ESCOLHA tem 4 (quatro) alternativas (A - B - C – D). Apenas 01 (uma) resposta é correta. Não marque mais de uma resposta para a mesma questão, nem deixe nenhuma delas sem resposta. Se isso acontecer, a questão será anulada.
- 04 - Para marcar as respostas definitivas no seu CARTÃO RESPOSTA do tipo MÚLTIPLA ESCOLHA, use caneta esferográfica com tinta preta. NÃO utilize caneta com tinta vermelha ou lápis.
- 05 - Ao receber o CARTÃO RESPOSTA preencha-o corretamente.
- 06 - Tenha cuidado na marcação da Folha de Respostas, pois ela não será substituída em hipótese alguma.
- 07 - Confira e assine a Folha de Respostas, antes de entregá-la ao Fiscal. NA FALTA DA ASSINATURA, A SUA PROVA SERÁ ANULADA.
- 08 – 40 minutos após o início das provas, você poderá retirar-se da sala SEM LEVAR ESTE CADERNO.
- 09 - Em nenhuma hipótese, o candidato poderá levar o Caderno de Provas e/ou o Cartão de Resposta.
- 10 - No encerramento das provas, há necessidade de pelo menos três candidatos presentes na sala. Isso faz parte das normas para transparência na fiscalização do Concurso.
11. A duração da prova será de Quatro Horas.

Anote aqui suas respostas.

1	2	3	4	5	6	7	8	9	10
11	12	13	14	15	16	17	18	19	20
21	22	23	24	25	26	27	28	29	30

01. Não são antônimos:

- a) Fino – Grosso.
- b) Honrar – Desonrar.
- c) Vestir – Despir.
- d) Aldeia – Povoado.

02. “Viajar é bom e instrutivo.”

Os monossílabos presentes na frase acima são:

- a) Tônico e átono, respectivamente.
- b) Átono e tônico, respectivamente.
- c) Ambos átonos.
- d) Ambos tônicos.

03. Assinale a alternativa que apresenta palavra ortograficamente incorreta:

- a) Proprietário.
- b) Admitir.
- c) Pertubar.
- d) Ritmado.

04. Leia com atenção:

I- Monossílabo átono é pronunciado fortemente;

II- Monossílabo tônico é pronunciado fracamente.

Sobre os itens acima:

- a) Apenas I está correto.
- b) Apenas II está correto.
- c) Ambos estão incorretos.
- d) Ambos estão corretos.

05. Leia com atenção:

I- A viagem foi agradável;

II- Espero que eles viagem pelo mundo.

Sobre os itens acima:

- a) Ambos estão incorretos.
- b) Ambos estão corretos.
- c) Apenas I está correto.
- d) Apenas II está correto.

06. Em qual das alternativas a frase está corretamente escrita?

- a) O cabeilereiro é ágil e sinjelo.
- b) O cabeleireiro é ágil e singelo.
- c) O cabeleirero é ágil e singelo.
- d) O cabeleirero é agel e singelo.

07. Qual das frases abaixo é interrogativa?

- a) Ela foi tarde.
- b) Ela foi tarde?
- c) Ela foi tarde!
- d) Ela foi tarde...

08. É uma palavra polissílaba:

- a) Vinha.
- b) Galinha.
- c) Indicador.
- d) Dedo.

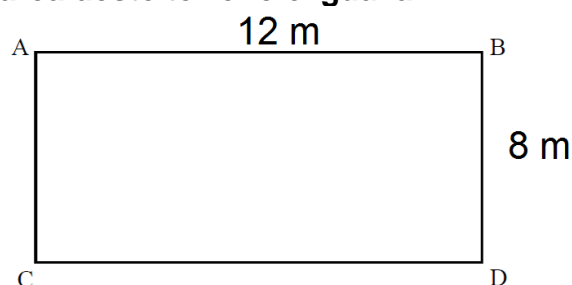
09. É uma palavra paroxítona:

- a) Direção.
- b) Imaginou.
- c) Dançar.
- d) Vamos.

10. Qual das palavras abaixo tem o mesmo número de consoantes e vogais?

- a) Balduíno.
- b) Beijo.
- c) Culpa.
- d) Avião.

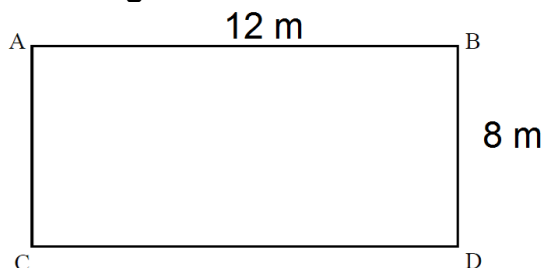
11. Analise o desenho de um terreno abaixo. Com base nas medidas apresentadas, é correto afirmar que a área deste terreno é igual a:



- a) 96 m²
- b) 84 m²

- c) 76 m²
- d) 62 m²

12. Ainda com base no terreno apresentando anteriormente, é correto afirmar que a soma de todos os seus lados é igual a:



- a) 60 m
- b) 50 m
- c) 40 m
- d) 30 m

13. Para o Natal, João comprou cinco caixas de bombom. Sabendo que cada caixa custa R\$ 12,50, é correto afirmar que ao todo João gastou:

- a) R\$ 67,50
- b) R\$ 66,99
- c) R\$ 66,00
- d) R\$ 62,50

14. Uma professora entregou aos seus alunos a figura geométrica planificada abaixo para que eles a montassem. Com base nisso, é correto afirmar que, após a montagem, a figura se transformará em um:

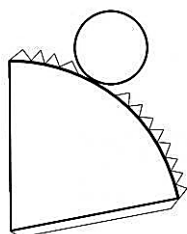


Figura Geométrica Planificada

- a) Cilindro
- b) Cone
- c) Cubo
- d) Prisma

15. Analisando a tabela abaixo, pode-se concluir que 8 dividido por 2 traz como

quociente o número 4, bem como o resto da divisão igual a zero.

Dividendo	Divisor	Quociente	Resto
8	2	4	0
12	6	?	?

Com base nisso, é correto afirmar que o quociente e o resto da divisão de 12/6 são, respectivamente:

- a) 2 e 0
- b) 3 e 0
- c) 6 e 3
- d) 4 e 0

16. As limpezas devem se iniciar:

- a) Do teto para o chão.
- b) Do chão para o teto.
- c) Da parede esquerda para a parede direita.
- d) Da parede direita para a parede esquerda.

17. Não é um dos três “R” da sustentabilidade:

- a) Reutilizar.
- b) Reciclar.
- c) Reparar.
- d) Reduzir.

18. (1) São muito variados os modelos de aspirador de pó, podem ser grandes, médios ou pequenos; ter ou não rodinhas; portáteis ou não.

(2) Além disso, cada modelo tem uma variedade de pontas para que os aparelhos possam ser adaptados para a limpeza de todos os tipos de cantos.

Sobre o trecho acima:

- a) Está completamente incorreto.

- b) Está completamente correto.
- c) Apenas a última frase está correta.
- d) Apenas a primeira frase está correta.

19. A perda de sangue devido ao rompimento de um vaso sanguíneo requer intervenção imediata em primeiros socorros e denomina-se:

- a) Afogamento.
- b) Entorse.
- c) Convulsão.
- d) Espasmo.

20. Ergonomia:

I- Consiste no conjunto de disciplinas que estuda a organização do trabalho no qual não existem interações entre seres humanos e máquinas;

II- Seu principal objetivo é desenvolver e aplicar técnicas de adaptação de elementos do ambiente de trabalho ao ser humano.

Sobre os itens acima:

- a) Ambos estão corretos.
- b) Ambos estão incorretos.
- c) Apenas I está incorreto.
- d) Apenas II está incorreto.

21. Assinale a alternativa incorreta como procedimento de primeiros socorros em caso de convulsão epilética:

- a) Deite a vítima no chão e afaste tudo o que esteja a seu redor e possa machucá-la.
- b) Não impeça os movimentos da vítima.
- c) Retire óculos e tudo que possa quebrar e machucar a vítima.
- d) Se a vítima cerrou os dentes, tente abrir-lhe a boca a qualquer custo.

22. É um Equipamentos de Proteção Individual (EPI) respiratória:

- a) Tampões.
- b) Abafadores.

- c) Capacete.
- d) Máscara.

23. Analise o trecho e assinale a alternativa que completa respectivamente as lacunas:

A limpeza é um processo de localizar, identificar, conter, remover e desfazer-se de forma adequada, de substâncias _____, ou seja, poluentes, de uma superfície ou ambiente. Em outra definição, limpeza é a remoção de qualquer corpo _____, visível ou não, de uma superfície, sem alteração das características originais do item que está sendo limpo, e onde o processo usado não seja _____ ao meio ambiente.

- a) Indesejáveis – Desejável – Benéfico.
- b) Indesejáveis – Indesejável – Nocivo.
- c) Desejáveis – Desejável – Benemérita.
- d) Desejáveis – Indesejável – Benevolente.

24. Não é um EPI de uso ocular e facial:

- a) Óculos.
- b) Viseira.
- c) Máscara.
- d) Coturno.

25. Em caso de parada cardíaco-respiratória:

- a) Não dê nada à vítima para comer, beber ou cheirar na intenção de reanimá-la.
- b) Dê à vítima algo para mastigar, mas jamais para beber.
- c) Dê a vítima algo para beber, mas jamais para comer.
- d) Dê à vítima algo para aspirar, mas jamais para engolir.

26. Leia com atenção:

(__) Verificar se o sistema de iluminação está funcionando a contento;

- () Não abandonar o posto de serviço durante seu horário de serviço;
() Quando constatar a presença de estranhos em áreas privativas, desconsiderar o fato;
() É permitida a livre circulação de vendedores nos prédios públicos.

Levando-se em consideração que (V) significa Verdadeiro e (F) significa Falso a sequência das proposições acima é:

- a) F-F-V-V.
- b) V-V-F-F.
- c) F-V-F-V.
- d) V-F-V-F.

27. Leia com atenção:

I- Informar diariamente ao inferior hierárquico a ocorrência de quebras ou mau funcionamento para que ele camufle a falha;

II- Executar com zelo e capricho suas tarefas.

Sobre os itens acima:

- a) Ambos estão corretos.
- b) Ambos estão incorretos.
- c) Apenas II está incorreto.
- d) Apenas I está incorreto.

28. Sobre armazenamento de materiais de limpeza é uma orientação inválida:

- a) Para economizar espaço misture os produtos num mesmo recipiente.
- b) Separe-os por setor de uso.
- c) Certifique-se que no lugar em que guarda não há umidade que pode deteriorar as embalagens.

- d) Certifique-se da temperatura no lugar em que guarda porque há produtos inflamáveis.

29. Sobre embalagens de matérias de limpeza:

I- Reaproveite garrafas, potes ou caixas dos produtos de limpeza, pois suas substâncias químicas não permanecem no material nem antes de lavá-los;

II- Verifique no rótulo a melhor forma de eliminar a embalagem e procure não jogar no lixo comum para evitar contaminação.

Sobre os itens acima:

- a) Apenas I está correto.
- b) Ambos estão corretos.
- c) Ambos estão incorretos.
- d) Apenas II está correto.

30. Analise o trecho e assinale a alternativa que completa respectivamente as lacunas:

Os carpetes precisam ser higienizados _____, evitando que fiquem encardidos pelo acúmulo de pó e areia na _____. Isso acaba cortando as fibras no pisar, _____ assim sua vida útil.

Preenchem adequadamente as lacunas acima as respectivas palavras:

- a) A distância – Trama – Aumentando.
- b) Periodicamente – Trama – Diminuindo.
- c) Mensalmente – Matriz – Diminuindo.
- d) Anualmente – Cor – Aumentando.